

Les dynamiques socio-spatiales en Afrique du Sud

Cette fiche de travail va vous permettre de mieux comprendre cette situation du sujet d'étude « le développement inégal » étudié en classe. Pour cela, il vous faudra dans les cases grises appropriées répondre aux consignes ou quelquefois simplement les cocher. Dans cette fiche, il y a des liens internet, ils vont vous ouvrir différents types de documents pour vous aider à répondre.

1) Situation géographique et économique de l'Afrique du Sud

Où se trouve ce pays et qu'en est-il de son développement économique ? Essayons de répondre à cette problématique en apportant des réponses aux questions qui suivent.

a. Localisez l'Afrique du Sud en vous aidant de [Google Maps](#) et remplissez le tableau qui suit :

Continent	Localisation géographique (utilisez du vocabulaire géographique Nord /Sud... donnez des points de repères, pays voisins..)	Nombre de régions du pays	Quelques grandes villes

b. Cliquez sur ce lien « [carte des dynamiques socio-spatiales](#) » pour obtenir une carte. Aidez vous des informations (clic sur 📌) pour remplir le tableau qui suit :

		Pays développés		Pays Moins Avancés		Pays émergents	
	Afrique du sud	France	Canada	Mali	Madagascar	Brésil	Inde
Population (milliers)		62 787	34 017	15 730	20 714	194 946	1 224 614
Taux analphabètes %		0,5	0,5	68	35,5	9,7	37
Indice de fécondité		1,97	1,65	6,4	4,8	1,9	2,7
Espérance de vie		80,5	80,5	50	65,8	75,3	64,2
IDH		0,878	0,908	0,359	0,433	0,718	0,547
PIB /hab. (dollars)		30 628	40 541	1 128	934	11 769	3 694
Croissance éco. sur 10 ans en %		1,1	1,9	5,7	2,6	3,6	7,5

Nom : prénom : classe : 1/5

c. En analysant [le document en ligne](#) et la carte précédente, quels sont les points forts, les points faibles de l'économie du pays (maximum 4 lignes pour chaque réponse)

Points forts :

Points faibles

d. Après une analyse de vos réponses et un comparatif avec les autres pays du tableau, l'Afrique du Sud est un pays : Développé Émergent PMA

e. En 2010, l'Afrique du Sud organisait la coupe du monde de foot-ball. Nous avons souvent vu sur nos écrans des vidéos publicitaires pour cette manifestation sportive. Regardez deux exemples de ces vidéos publicitaires sur [le lien](#) puis dites quel message elles voulaient faire passer sur ce pays.

f. Lisez le texte qui accompagne ces publicités puis dites dans quelle situation réelle se trouve la population sud-africaine.

2) L'Afrique du Sud, une société égalitaire ?

Depuis la fin de la ségrégation raciale en 1991, la situation entre noirs et blancs s'est-elle améliorée pour obtenir l'égalité entre tous les Sud-Africains ? Essayez de répondre à cette problématique en apportant des réponses aux questions qui suivent.

a. Pour ce qui est du chômage, en étudiant la « [carte des dynamiques socio-spatiales](#) » trouvez de combien est le taux de chômage (aide: voir 📌)

- pour toute la population : 28,6 4,9 24,5

- de la population noire : 28,6 4,9 24,5

- de la population blanche : 28,6 4,9 24,5


b. Quelles sont les causes de cette grande disparité entre blancs et noirs? Pour vous aider à répondre cliquez sur ce lien: [article de presse](#) (lisez bien les deux premiers paragraphes)

Nom :

prénom :

classe :


2/5

c. Comparez dans la légende de la « [carte des dynamiques socio-spatiales](#) » le classement des régions (clic sur les  et regardez le % de blancs) avec le classement des régions plus ou moins frappées par la pauvreté (couleurs dégradées du jaune au marron). Que pouvez vous en déduire ? Cochez les bonnes réponses.

- Il n'y a pas de points communs dans les deux classements.
- Les régions les plus pauvres sont celles où il y a le plus de blancs
- Les régions les plus pauvres sont celles où il y a le plus de noirs.
- La pauvreté et le chômage frappent plus les blancs.
- La pauvreté et le chômage frappent plus les noirs.

d. Après l'étude de tous ces documents et de vos réponses, pouvez vous déjà dire si la société sud-africaine est : Égalitaire Inégalitaire

e. Un indice peut confirmer ou infirmer votre réponse : c'est le coefficient de Gini. Cliquez sur [ce lien](#) et trouvez cet indice : de combien est-il pour l'Afrique du Sud ?

f. Cliquez sur l'indice  Coefficient de Gini de la page web vous aurez des informations supplémentaires qui vous permettront de comprendre ce qu'il signifie.

En deux lignes, expliquez ce que représente ce coefficient de Gini :

g. Le coefficient de Gini sud-africain que vous avez trouvé démontre-t-il que c'est une société égalitaire ou inégalitaire ? Expliquez (*une aide : regardez la carte et le graphique en bas de la page web*)

h. Sur la « [carte des dynamiques socio-spatiales](#) » zoomez très fortement sur le quartier d'Alexandra (vous pouvez le trouver grâce à la légende). Regardez quel type d'habitations s'y trouvent puis comparez avec les quartiers voisins à l'ouest (quartier blancs). (*aide : comparez bien les logements en zoomant*)

Que pouvez vous en dire ?

3) Un pays en danger d'explosion sociale

L'Afrique du Sud est donc très inégalitaire. Des régions plus pauvres que d'autres, des situations économiques et sociales très différentes si l'on est blanc ou noir, instruit ou pas. Est-ce un pays tout de même calme ou y-a-t-il un risque d'explosion sociale ?

Regardez la première vidéo [sur ce site](#) (vidéo de Philippe Gervais-Lambony) puis répondez aux questions qui suivent.


Nom : prénom : classe : 3/5

- a. L'apartheid a-t-il politiquement disparu en Afrique du Sud ? Oui Non
- b. Les inégalités ont-elles du coup aussi disparu en Afrique du Sud ? Oui Non
- c. L'Afrique du Sud est-il un pays de grande violence ? Oui Non
- d. Y a-t-il de la violence partout ? Oui Non

e. Quelles sont les zones les plus touchées par cette violence ?

f. Qui sont les plus touchés par cette violence ?


• **Les émeutes de 2008 et 2012**

Retournez sur la « [carte des dynamiques socio-spatiales](#) » puis cliquez sur le  quartier d'Alexandra. Dans le texte explicatif qui apparaît, il y a un lien sur un article du Monde Diplomatique que vous utiliserez pour répondre aux questions suivantes.

g. Qui se révolte ?


h. Contre qui cette révolte et pourquoi ?

i. Décrivez les conditions de vie des habitants d'un township et la cohabitation avec les immigrants. (5^e paragraphe)

j. Toujours sur la carte cliquez sur le logo  de Marikana et dans le texte explicatif qui apparaît retrouvez le lien pour répondre à la question suivante.

Que s'est-il passé à Marikana ? (*aide : qui se révolte ? contre qui ? pourquoi ? Quel résultat ?*)

• **Inégalité pour la santé**

k. Lisez [l'article de presse](#) et les chiffres de la [carte des dynamiques socio-spatiales](#) pour expliquer la grave crise sanitaire que subit l'Afrique du Sud. (*aide : clic dans la carte sur *)

De quelle crise sanitaire s'agit-il?

Nom :

prénom :

classe :

4/5

l. Qui sont les plus touchés par cette maladie ?

m. Quels sont les chiffres qui sont inquiétants pour le futur des Sud-Africains ? Expliquez.

En conclusion

Écrivez une synthèse de quelques lignes sur les inégalités socio-spatiales en Afrique du Sud que vous venez de découvrir grâce à votre travail.

Nom : prénom : classe : 5/5